

GENEL YETENEK

1. Çocuklara TV seyrettirme ya da seyrettirmeme ile ilgili birçok şehir efsanesi var. "Seyrettirmeyelim zararlı" diyenler çoğunlukta; fakat bu kişilere "Neden?" diye sorduğunuzda şiddet gibi unsurlardan çocuğun etkileneceği gibi basit bir yanıt alıyorsunuz. Ben konunun biraz üzerine gidince enteresan şeylerle karşılaştım.

Bu cümledeki altı çizili sözlerin cümleye kattığı anlam aşağıdakilerin hangisinde doğru olarak verilmiştir?

- A) Farklı gözlerle bakmak – ilgi göstermek
- B) Hayal ürünü olan – araştırmak
- C) Gerçekleşmesi muhtemel olaylar – korkutmak
- D) Değişime açık olan – tek açıdan yaklaşan
- E) Birbirine benzeyen – yanlı davranan

2. I. Eğitimcileri kaygılandıran önemli bir gerçek var.
 II. Kitaptan uzaklaşan bu gençlerin büyük bir bölümü, sorumluluklardan kaçarak yaşamı bir eğlence gibi görüyor veya asosyal bir yaşam içinde bunalımlara sürükleniyor.
 III. Günümüz gençleri, daha çocukken teknolojiye yönelerek sanal oyunlara ve hazır bilginin kolaylığına sığınıyor.
 IV. Bu tehlikenin herkes farkında ama "suçluyu" belirleme, zararı en aza indirme konusunda görüşler farklı.
 V. Yasakçı bir anlayışla sorunun daha da büyüyeceğine kuşku yok.

Yukarıdaki numaralandırılmış cümlelerin anlamlı bir bütün oluşturabilmesi için hangileri yer değiştirmelidir?

- A) I. ile II. B) II. ile III. C) III. ile IV
- D) III. ile V. E) IV. ile V.

3. I. Deneme, omurgasını düşüncelerin oluşturduğu bir türdür,
 II. Ya da değinilen konuyu çok dikkatle gözlemiş olmak...
 III. İyi deneme yazarları kendilerini bu yollarla geliştirirler.
 IV. Bu, deneme yazmak için gerekli olan kaynağın ve kıvılcımın ta kendisidir.
 V. Deneme, tamamen düşünce çevresinde şekillendiğinden yazar ileri sürdüğü düşüncelere yürekten inanmış olmalıdır.

Yukarıdaki numaralanmış cümleler anlamlı bir bütün oluşturacak biçimde sıralandığında hangisi baştan üçüncü olur?

- A) I B) II C) III D) IV E) V

4. Sanat, tıpkı dünya gibi, başına buyruktur, ve insanın dünyayı kavrayışı durmaksızın değişirken dünyanın her zaman aynı kalması gibi, sanatın da insanların geçici kavramlarından bağımsız kalması gerekir.

Bu cümlede sanatla ilgili vurgulanmak istenen aşağıdakilerden hangisidir?

- A) Özgür olması gerektiği
- B) Kendine göre kurallarının olduğu
- C) Her zaman geleceğe yöneldiği
- D) Belli kuramlara takıldığı
- E) İnsanlara hitap ettiği

5. "Bir işin başarılmasında türlü sıkıntılara katlanıp sabreden, gayret gösteren kişi sonunda mükâfatını alır." anlamını veren söz aşağıdakilerden hangisidir?

- A) Tavşan dağa küsmüş, dağın haberi olmamış.
- B) Evli evinde, köylü köyünde gerek.
- C) Tekkeyi bekleyen çorbayı içer.
- D) Düşenin dostu olmaz, hele bir yol düş de gör.
- E) Kurt dumanlı havayı sever.

6. (I) Bonsai; bahçivanlığı, heykeltıraşlığı, ressamlığı ve felsefeyi kusursuz bir denge içinde bir araya getiren bir sanattır. (II) Bonsai, gelişmesi durdurulmayan ama küçük kalması için kontrol altında tutulan, sağlıklı ve normal bir ağaçtır. (III) Bonsai, kökeni, Çin olmasına karşın, Japonlar tarafından dünyaya tanıtılmış ve 19. yüzyılın başlarında popüler olmaya başlamıştır. (IV) Her tür ağaçtan yapılabilir; ama kimi ağaç türleri, doğal özelliklerinden dolayı Bonsai yapılmaya daha elverişlidir. (V) Bonsai sanatçısı budama, tel sarma gibi değişik teknikler kullanarak saksı içindeki küçücük ağacı doğadakine benzetmeye çalışır.

Bu parçadaki numaralı cümlelerde Bonsai ile ilgili aşağıdakilerden hangisi yanlıştır?

- A) I. cümlede açıklaması yapılmıştır.
- B) II. cümlede sağlıklı olması için gereken koşullara yer verilmiştir.
- C) III. cümlede ne zamandan itibaren tanınmaya başlandığı söylenmiştir.
- D) IV. cümlede bazı ağaç türlerinden yapılmasının daha kolay olduğu belirtilmiştir.
- E) V. cümlede farklı teknikler denendiği belirtilmiştir.

7. Aşağıdaki cümlelerden hangisinde öznellik ağır basmaktadır?

- A) Yarın akşam İstanbul'da final maçı oynanacak.
- B) Kitabın içeriğinde bazı değişiklikler yaptığını söylüyor yazar.
- C) Bu konu hakkında farklı kişilerin görüşlerine yer vermiş.
- D) Sabahları bir tane elma yemenin kişiyi zinde tutacağı belirtiliyor.
- E) Bunca olaydan sonra hala insanlara karşı saygı göstermiyoruz.

8. (I) İnsan ve hayvan davranışlarıyla ve bilişsel süreçleriyle ilgilenen psikoloji biliminin 125 yıllık bir tarihi vardır. (II) Bu genç yaşına rağmen psikoloji, biyolojiden sosyolojiye kadar uzanan oldukça geniş kapsamlı bir alandır. (III) Psikoloji insan ve hayvan davranışlarını ve bu davranışlarla ilintili psikolojik, sosyal ve biyolojik süreçleri inceleyen bir alandır. (IV) Bir meslek olarak ise psikoloji, psikoloji bilgilerinin insan sorunlarını çözmek için kullanılmasıdır. (V) Bu bilginin kullanılması psikolojinin alt alanlarına göre değişmekle birlikte dili iyi kullanma, araştırma, istatistiksel analiz ve empati gibi bazı özel beceri ve yetenekleri gerektirir.

Bu parçada psikolojiyle ilgili aşağıdakilerden hangisi çıkarılamaz?

- A) I. cümlede psikolojinin ilgilendiği alanlara yer verilmiştir.
- B) II. cümlede psikolojinin farklı alanlarla ilişkisi olduğu belirtilmiştir.
- C) III. cümlede psikolojinin tanımı yapılmıştır.
- D) IV. cümlede meslek olarak açıklaması yapılmıştır.
- E) V. cümlede dili iyi kullanmanın koşullarına yer verilmiştir.

9. (I) Dünya edebiyatında bizim edebiyatımıza göre çok daha fazla kayıp ve gizemli kitaptan söz edilebilir. (II) Shakespeare'den Goethe'ye kadar, Batının dev isimlerinin kaybolan ve asla günışığına çıkmamış eserleri var. (III) Batı düşüncesi ve edebiyatındaki bu kayıp eserler hakkında bildiklerimiz, antik çağa kadar uzanıyor. (IV) Odyssea ve İlyada'nın şairi Homeros'un bu iki büyük eseri günümüze orijinal metinleriyle ulaşamadı. (V) Şairin bugün dolaşımda olan 27.803 dizesi var.

Bu parçadaki numaralı cümlelerin hangisinde "karşılaştırma" yapılmıştır?

- A) I B) II C) III D) IV E) V

10. (I) Herhangi birinin dosyasını değerlendirmeniz istediğinde bunu ertelemeyin. (II) Gözden geçirin, girdilerinizi yapın ve devam ettirin. (III) Bu, elinizde iş kalmamasını sağlayacağı gibi diğer kişi de sizin dosyanızı aldığı anda sizin çabalarınızı hatırlayacaktır. (IV) Ayrıca evrakın miadını aşmaktan kurtaracaktır. (V) Gözden geçirmek için daha fazla zamana gereksinim duyarsanız ek süre isteyin.

Bu parçadaki numaralanmış cümlelerden hangilerinde "öneri, tavsiye" anlamı yoktur?

- A) I ve II B) II ve III C) II ve IV
D) III ve IV E) IV ve V

11. Çok yalın bir dille de güzel sanatlar yapılabilir; bunun en güzel örneği ise, hem de derin bir düşünce olan tasavvuf konusunu halka anlatmayı başaran, bunu yaparken de edebî sanatları büyük bir başarıyla kullanmış olan Yunus Emre'dir.

Bu cümleyle ilgili aşağıdakilerden hangisi söylenemez?

- A) İhtimal anlamı vardır.
B) Karşılaştırma yapılmıştır.
C) Neden sonuç cümlesidir.
D) Öznel bir cümledir.
E) Mecaz anlamı sözcük kullanılmıştır.

12. Aşağıdaki cümlelerin hangisinin parantez içinde verilen açıklaması yanlıştır?

- A) Yarın akşamdan itibaren düzenli olarak spor yapmaya başlıyorum.(kurallı eylem cümlesidir)
B) Yenileme çalışmaları nedeniyle pek çok yerde elektrik kesintilerine gidilecek.(edat kullanılmıştır)
C) Bu yaz tatilinde de bir yerlere gidemeyeceğim gibi geliyor bana.(hem sıfat hem bağlaç kullanılmıştır)
D) Sen istediğin kadar anlat; anlattıkların anlayabilene fayda sağlıyor.(zamir kullanılmıştır)
E) Gazete okumaya başladı mı kimse onun yanında oturmazdı.(gizli özne vardır)

13. Yeni araştırma, çocukların ailelerinden görekerek ye-

I

II

mek yedikleri savının doğru olmadığını ve ailenin

III

IV

yemek yeme alışkanlığı ile çocuklar ile çocuklar arasında çok az benzerlik olduğunu gösterdi.

V

Bu cümledeki altı çizili sözcüklerden hangisi bir ismi nitelemektedir?

- A) I B) II C) III D) IV E) V

14. Aşağıdaki cümlelerin hangisinde yer kavramı vurgulanmıştır?

- A) İnsanlığın ne zaman ortaya çıktığına dair kesin bir bilgiye hala ulaşılamadı.
- B) Pek çok bölgede kabileler arası savaşlar yaşanıyor.
- C) On yedi yıl yaşadığı kasabadan ayrılıp hiç tanımadığı bir yere, taşındı.
- D) Kaldırımların yenilenmesi için harcanan parayla yedi okul yapılabilirdi.
- E) Uzun bir sessizliğin ardından kürsüye gelen başkan kısa bir konuşma yaptı.

15. Zaman çok hızlı geçiyor (I) Hızla geçen zaman içinde ne yaptığımızı tam bilmiyoruz (II) Bazıları ev araba alma telaşında (III) bazıları (IV) Bir koşuşturma içindeyiz (V)

Bu parçadaki numaralı yerlerden hangi ikisine diğerlerinden farklı noktalama işareti gelmiştir?

- A) I ve II
- B) II ve III
- C) II ve IV
- D) III ve IV
- E) IV ve V

16. 20 ocak tarihinde yazar Erkan tarafından hazırlanan ve birçok eleştirmen tarafındanda beğenilen

belgesel niteliğinde ki kitap önümüzdeki ay okurlarıyla buluşacak.

Bu cümledeki altı çizili sözcüklerden hangisinin yazımı yanlış değildir?

- A) I
- B) II
- C) III
- D) IV
- E) V

17. Aşağıdaki cümlelerin hangisinde bir anlatım bozukluğu vardır?

- A) Bütün bildiklerini anlattırsan belki, seni az bir cezayla kurtarırız.
- B) Yıllar bir bir geçiyorlar ama sen hala eskisi gibi güzelsin.
- C) Yaşamın kıymetini bilmeyen biri için yılların hiçbir önemi yoktur.
- D) Son zamanların en iyi parçalarını bu radyoda dinleyebilirsiniz.
- E) Uzak ülkelerin yalnız insanların konu alıyor bu belgesel.

18. İtrî'nin, günümüze kalan pek az bestesiyle bile bugün Türk müziğinin başta gelen birkaç ustasından biri olarak kabul edilmesi, sanatındaki başarısının göstergesidir.

Bu cümlede aşağıdakilerden hangisi yoktur?

- A) İsim tamlaması
- B) Sıfat
- C) Eylemsi
- D) Türemiş sözcük
- E) Durum zarfı

19. Dil konusunda duyarlı olan herkes, son yıllarda yabancı dillerden dilimize geçen sözcüklerin, Türkçenin en önemli problemlerinden biri olduğunun farkındadır.

Bu cümleyle ilgili aşağıda verilenlerden hangisi yanlıştır??

- A) Birleşik yapılı, kurallı, isim cümlesidir.
- B) "Dil konusunda duyarlı olan herkes" sözü öznedir.
- C) Birden fazla fiilimsi vardır.
- D) Etken, geçişli bir cümledir.
- E) İsmi yerini tutan sözcükler vardır.

20. Sanata önem veren bir yapıya sahip olan divân şirinin en belirgin özelliklerinde biri de üslup olarak edebî sanatlara olabildiğince fazla yer vermesidir. Hatta divân şairlerinin sanat anlayışlarında edebî sanatlar aracılığıyla hüner, mârifet ve ustalıklarını ortaya koyma, genel ve yaygınca benimsenen bir esastır. Hemen her sözün sanatla süslenildiği bu edebiyatı, iyi anlamak ve ondan zevk almak için bu sanatları bilmek gerekir. Bazen bir beyitte birkaç sanatla birden karşılaşmak mümkündür. Ancak hemen belirtmek gerekir ki sanat yapmak için dilin ille de sanatlı ve ağır olmasına gerek yoktur.

Bu parçada divan şiiriyle ilgili vurgulanmak istenen aşağıdakilerden hangisidir?

- A) Mecaz anlamlı sözcüklerin bolca kullanılması
- B) Konunun her zaman ikinci planda kalması
- C) Devrin sorunlarına değinilmemesi
- D) Sanatlı ve süslü söyleşiye önem vermesi
- E) Açık bir dille halka ulaşmanın amaçlandığı

21. (I) Bir gram toprak içerisinde milyonlarca mikrobik canlı yaşamaktadır. (II) Bu canlılar olmasa idi, organik maddeler ayrışamayacaklarından, dünyanın yüzeyi ölü artıklar ile dolacak ve yaşanamaz bir hâl alacaktı. (III) "Toprağı, sadece ufalanmış, öğütülmüş küçücük taş parçacıkları olarak düşünemeyiz. (IV) Başka bir ifadeyle iki üç taş parçasını alıp havanda dövsek de un hâline getirsek 'toprak' elde edemeyiz. (V) Çakıl taşını istediğiniz kadar ufalayın; hiçbir zaman canlı, bereketli, üretken toprağı elde edemezsiniz. (VI) Gerçek toprağın oluşması için binlerce yıl gerekmektedir.

Bu parçadaki numaralı cümlelerin hangisiyle yeni bir paragrafa geçilebilir?

- A) II
- B) III
- C) IV
- D) V
- E) VI

22. Aşırı stresin öğrencilerin psikolojik dengesini bozacağına dikkat çeken uzmanlar, aileleri çocuklarına baskı yapmamaları ve onları başka öğrencilerle karşılaştırmamaları konusunda uyarıyor. Anne-babaların sınavları mutlak kazanılması gereken bir zafer gibi görmesi öğrencileri psikolojik bunalıma itebiliyor. Araştırmalara göre öğrencilerin yüzde 67'si ciddi anlamda sınav kaygısı yaşıyor.

Bu parçaya göre öğrencilerin psikolojisinin bozulmasında asıl etken aşağıdakilerden hangisidir?

- A) Aşırı stres
- B) Sınavın kazanılması zorunluluğu
- C) Ailelerin çocuk üzerinde baskı kurması
- D) Öğrencilerin düzenli ders çalışmaması
- E) Sınav kaygısının artması

23. Gazeteci kimliğinizle bir şey yazdığınızda, onun doğruluğu ve birileri tarafından yalanlanması çok önemlidir. Doğruları yazmalı, arkasında durabileceğiniz sözler söylemelisiniz. Söyledikleriniz gerçeklere dayanmalı ve kimseyi incitmemelidir. Okuyucuya suya sabuna dokunmayı sıradan haberler veremezsiniz.

Bu parçadan gazeteci ile ilgili aşağıdakilerden hangisine ulaşılabilir?

- A) Farklı alanlara ilgi duymalı
- B) Kendini her zaman yenilemeli
- C) Okura karşı dürüst olması gerektiği
- D) Her haberi okuyucuya sunmamalı
- E) Okurun ilgisini çeken haberlere yer vermeli

24. Sabun, güzel kokulu yağları kimyasal yolla değiştirme yöntemlerinin bulunmasıyla 12. yüzyılda geliştirildi, ancak 1916 yılına kadar temizlik maddesi üretiminde dikkate değer bir ilerleme kaydedilmedi. Daha sonra, fosfatların da kullanımıyla çok amaçlı deterjanlar üretilmeye başladı. Birinci Dünya Savaşı sırasında sabun yapılabilecek yağların azalması üzerine, ilk sentetik deterjan Almanya'da üretildi. Bu ilk sentetik deterjanlar yalnızca elde yıkamada kullanılabilir nitelikteydi. O günden bugüne, temizlik maddeleri üretimi baş döndürücü bir hızla gelişti.

Bu parçadan temizlik maddeleriyle ilgili aşağıdakilerden hangisi çıkarılamaz?

- A) Zaman içinde daha da geliştirildiği
- B) Sentetik deterjanların daha sağlıklı olduğu
- C) Birinci dünya Savaşından sonra değişime uğradığı
- D) 12. yüzyıldan beri bilindiği
- E) Sabunun yağdan elde edildiği

25. Romanda tiplere yapılırken, öncelikle, insan yüzünün her zaman kişiliği yansıtmadığı göz önünde tutulmalıdır. İnsan yüzü öfke, mutluluk gibi anlık duygu durumlarını verebilir; ama örneğin cani tipinin, dış görünüşle net bir tasvirinin yapılabileceğini sanmıyorum.

Bu parçadan romandaki tiplerele ilgili aşağıdakilerden hangisi anlatılmak istenmektedir?

- A) Karakterlerin kişiliğini yansıtanın kolay olmadığı
- B) Dış görünüşün kişiliği olduğu gibi yansıtmayacağı
- C) Tasvirle daha gerçekçi kılındığı
- D) Belli tiplerin romana daha fazla yakıştığı
- E) Duygusal yönün tip seçiminde önemli olduğu

26. Türk Obezite Vakfı, yapılan arařtırmalarla Türk toplumunun yaklařık %23'ünün obez olduđunu ortaya koydu. Bir de řiřman sınıfına girenleri dūřnürsek bu oran %30'u ařmakta. Rakamlar, yařam biçimimizi deđiřtirmesek 2025 yılında bütünüyle obez bir toplum olacađımızı gösteriyor. Obeziteye ařırı yeme ve hareketsiz yařam biçimi neden oluyor. Bu nedenle de spor salonlarına, spor aletlerine, diyet kitaplarına, diyet ürünlerine ve diyetisyenlere ilgi her geen gün artıyor.

Bu parada ařađıdakilerden hangisine deđinilmemiřtir?

- A) Obezite ile ilgili arařtırmaların yapıldıđına
- B) Obezitenin önlenmesine yönelik bireylerin neler yaptıđına
- C) Obezitenin neden olduđu sađlık sorunlarına
- D) Türk toplumunun giderek řiřmanladıđına
- E) Obeziteye nelerin yol atıđına

27. Uzmanlar, bađıřıklık sistemini güçlendirmek, kış aylarını zinde ve sađlıklı geirmek için özellikle C vitamini ieren mandalina, portakal, greylift, elma ve diđer meyveleri bol bol yemeyi öneriyor. Meyve tüketimi kanser, obezite, kalp hastalıkları, kirelenme, cilt bozulması gibi hastalıklara yakalanma riskini azaltıyor. Meyve, hafızayı canlandırıyor, kendinizi daha iyi hissetmenizi sađlıyor.

Bu paranın anlatımıyla ilgili ařađıdakilerden hangisi söylenemez?

- A) Bir konuya iliřkin bilgi verilmiřtir.
- B) Ama cümlesi kullanılmıřtır.
- C) Tanım yapılmıřtır.
- D) Öneri anlamı ieren cümleler kullanılmıřtır.
- E) Örneklere yer verilmiřtir.

28. – 30. soruları ařađıdaki bilgilere göre cevaplayınız.

Her katında iki daire bulunan beř katlı bir binada Ali, Banu, Murat, Nihal, Pelin, Rıza, Sinem ve Tarık isimli kiřiler oturmaktadır.

Bu kiřilerin hangi katta oturdukları ile ilgili ařađıdakiler bilinmektedir.

- Her biri bir dairede oturmaktadır.
- İki daire bořtur ve 3. katta sadece Pelin oturmaktadır.
- Sinem'in dairesi Nihal ve Banu'nun bulunduđu katın bir alt katındadır.
- Ali'nin dairesi, Tarık'ın dairesinden farklı katt, Murat'ın dairesinin bir alt katındadır.
- Rıza'nın dairesi Sinem ve Murat'ın daireleri ile aynı katta deđildir.

28. Ařađıdakilerden hangisi ikinci katta olamaz?

- A) Murat
- B) Nihal
- C) Ali
- D) Banu
- E) Tarık

29. Ařađıdakilerden hangisi kesinlikle yanlıřtır?

- A) Tarık 1. kattadır.
- B) Sinem 4. kattadır.
- C) Nihal'in dairesi Tarık'ın dairesinin bir alt katındadır.
- D) Rıza'nın dairesi Murat'ın dairesinin bir alt katındadır.
- E) Banu'nun dairesi Tarık'ın dairesinin bir üst katındadır.

30. Ařađıdakilerden hangisi kesinlikle dođrudur?

- A) Rıza'nın dairesi 1. kattadır.
- B) Ali ve Rıza aynı kattadır.
- C) Banu beřinci kattadır.
- D) Ali dördüncü kattadır.
- E) Murat beřinci kattadır.

31.

$$\begin{array}{r} x \mid y \\ - \quad \mid 6 \\ \hline 2 \end{array} \qquad \begin{array}{r} x+y \mid y \\ - \quad \mid y \\ \hline 2 \end{array}$$

Yukarıdaki bölme işleminde x ve y pozitif tam sayılardır.

Buna göre, x sayısının 9 ile bölümünden kalan kaçtır?

- A) 3 B) 5 C) 6 D) 7 E) 8

32. 1, 3, 6, 7, 9 rakamları kullanılarak yazılan, rakamları birbirinden farklı, beş basamaklı ABCDE sayısında, $A \cdot B = D + E$ dir.

Bu koşulu sağlayan kaç tane beş basamaklı ABCDE sayısı vardır?

- A) 8 B) 7 C) 6 D) 5 E) 4

33. $x \neq 0$ olmak üzere;

$$\frac{-x^4 \cdot (-x)^5 + 4(-x)^2 \cdot (-x)^7}{(-x)^2 \cdot (-x^2)^3}$$

ifadesi aşağıdakilerden hangisine eşittir?

- A) $5x^2$ B) $3x$ C) $5x^3$ D) $-3x$ E) $-x^7$

34. 25 ve 9 ile bölünebilen rakamları birbirinden farklı olan üç basamaklı kaç tane doğal sayı vardır?

- A) 4 B) 3 C) 2 D) 1 E) 0

$$35. x + \frac{8}{3 - \frac{1}{3 - \frac{1}{3}}} = 3$$

olduğuna göre, x kaçtır?

- A) $-\frac{1}{21}$ B) $-\frac{1}{7}$ C) $-\frac{2}{3}$ D) $\frac{1}{8}$ E) 1

$$36. \sqrt{5 - |2x - 7|}$$

ifadesi bir reel sayı olduğuna göre, x in alabileceği tam sayı değerlerinin toplamı kaçtır?

- A) 14 B) 15 C) 18 D) 20 E) 21

37. a, b, c birbirinden farklı pozitif doğal sayılardır.

$$4a + 2b + c = 32$$

olduğuna göre, c en az kaçtır?

- A) 1 B) 2 C) 3 D) 8 E) 10

38. A ve x pozitif tam sayılar olmak üzere;

$$50! - 49! = 7^x \cdot A$$

olduğuna göre, A'nın en küçük değeri için x kaçtır?

- A) 8 B) 9 C) 10 D) 12 E) 14

39. a ve b, 3'ten büyük pozitif tam sayılardır.

$$3,6 \cdot (a - 1) = (b - 3)^2$$

olduğuna göre, a + b nin en küçük değeri kaçtır?

- A) 20 B) 23 C) 29 D) 31 E) 33

40. Ardışık pozitif tam sayıları;

$$\{1\}, \{2, 3\}, \{4, 5, 6\}, \{7, 8, 9, 10\} \dots$$

şeklinde gruplandırırsak 21. grubun baştan dördüncü elemanı kaç olur?

- A) 210 B) 211 C) 214 D) 214 E) 224

41. $\sqrt{6}$ sayısının yaklaşık değeri 2,4 olduğuna

göre, $\frac{12 + \sqrt{48}}{2\sqrt{24} + \sqrt{32}}$ ifadesinin yaklaşık değeri kaçtır?

- A) 1,2 B) 2,4 C) 3,6 D) 4,8 E) 7,2

42. Bir çubuk 15 eşit parçaya ayrılıyor. Çubuk 9 eşit parçaya ayrılırdı her bir parçanın uzunluğu 12 cm daha uzun olacaktı.

Buna göre çubuk 10 eşit parçaya ayrılırsa her bir parçanın uzunluğu kaç cm olur?

- A) 12 B) 15 C) 18 D) 25 E) 27

43. Bir lokantada x tane müşteri vardır. Her saatte bu lokantaya x + 9 müşteri gelip x - 2 müşteri ayrılmıştır.

85 kişi kapasiteli olan bu lokanta 3. saatin sonunda tamamen dolduğuna göre, x kaçtır?

- A) 42 B) 52 C) 54 D) 63 E) 72

44. Bir havuzun tamamı su ile doludur. Havuzdan $\frac{1}{4}$ ü kadar su boşaltılıyor. Daha sonra havuzdan bir miktar su daha boşaltıldığında kalan suyun, toplam boşaltılan suya oranı $\frac{1}{3}$ oluyor.

Buna göre ilk boşaltılan suyun son durumda havuzda kalan suya oranı nedir?

- A) $\frac{1}{4}$ B) $\frac{1}{3}$ C) $\frac{1}{2}$ D) 1 E) 2

45. 4 yıl önceki yaşları farkı $x - 5$, bugünkü yaşları toplamı $x + 23$, 5 yıl sonraki yaşları farkı $13 - x$ olan iki kardeşten küçük kardeşin bugünkü yaşı kaçtır?

- A) 14 B) 16 C) 18 D) 20 E) 22

46. Bir fabrikada aynı malı üreten üç makine, bir günde a, b ve c birim mal üretebiliyor. a birim üretim yapan makinenin kapasitesi %25 artırılıp, b ve c birim üretim yapan makinelerin kapasiteleri %20 azaltılırsa günlük üretim miktarı değişmiyor.

Buna göre a, b ve c arasındaki bağıntı aşağıdakilerden hangisidir?

- A) $a = 4(b + c)$ B) $3a = b + c$
C) $4(b + c) = 5a$ D) $a = 5(b + c)$
E) $a = b + c$

47. $\frac{1}{4}$ ü şeker olan 60 gr şekerli suya, $\frac{1}{8}$ i şeker olan 40 gr şekerli su karıştırılıyor. Oluşan karışımın $\frac{2}{5}$ i dökülerek yerine dökülen miktar kadar saf su ekleniyor.

Yeni karışımın % kaç şekerdir?

- A) 24 B) 18 C) 15 D) 12 E) 10



Hızları saatte 3V ve 4V olan iki araç A noktasından B ye doğru aynı anda harekete başlıyorlar. Hızlı olan araç B ye varıp zaman kaybetmeden geri dönüyor ve yavaş olan araç ile B noktasına 120 km uzaklıkta bulunan C noktasında karşılaşıyorlar.

Buna göre, A ile B arası kaç km'dir?

- A) 600 B) 640 C) 780 D) 800 E) 840

49. $A = \{1, 2, 3, 4, 5\}$ kümesinin elemanlarıyla yazılabilen rakamları farklı 5 basamaklı sayılar küçükten büyüğe doğru sıralanıyor.

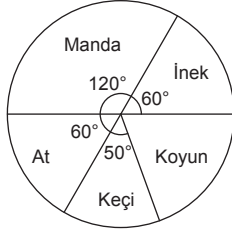
Buna göre 99. sayı kaçtır?

- A) 51324 B) 53134 C) 51234
D) 53124 E) 53142

50. 4 mavi 5 yeşil topun bulunduğu bir kutudan rastgele seçilen 2 topun birinin mavi birinin yeşil olma olasılığı kaçtır?

- A) $\frac{2}{9}$ B) $\frac{3}{9}$ C) $\frac{5}{9}$ D) $\frac{2}{3}$ E) $\frac{8}{9}$

51. - 53. soruları aşağıdaki bilgilere göre cevaplayınız.



Hayvan cinsi	Bir hayvandan 1 senede elde edilen yavru
İnek	
Koyun	2
Keçi	3
Manda	1
At	1

Yukarıdaki daire grafikte bir çiftlikte bulunan 144 adet hayvanın cinslere göre dağılımı tabloda ise hayvanların bir sene boyunca bir tanesinden elde edilen yavru sayıları verilmiştir.

51. Buna göre üç yılda ineklerden elde edilen yavru sayıları ile mandalardan elde edilen yavru sayıları eşit ise bir tane inek bir senede kaç adet yavru elde edilmektedir?

- A) 1 B) 2 C) 3 D) 4 E) 5

52. Bir yılda koyundan elde edilen yavru sayısı keçiden elde edilen yavru sayısının yüzde kaç eksiktir?

- A) 12 B) 10 C) 8 D) $\frac{15}{2}$ E) $\frac{20}{3}$

53. Bir yılın sonunda çiftlikte kaç tane hayvan bulunur?

(Yavrulardan tekrar yavru alınamayacaktır, tüm hayvanlar dişi kabul edilecektir.)

- A) 200 B) 212 C) 224 D) 236 E) 320

54. - 56. soruları aşağıdaki bilgilere göre cevaplayınız.

Verilen bir k pozitif tam sayısı $K = 2^a \cdot 3^b \cdot 5^c \cdot \dots \cdot p^m$ biçiminde küçükten büyüğe doğru sıralanmış olarak asal çarpanlarına ayrılıyor. Sonra, asal çarpanlarının üsleri sırasıyla yazılarak bu sayının kodu oluşturuluyor.

Örneğin, 100 sayısı

$100 = 2^3 \cdot 3^0 \cdot 5^2$ biçiminde asal çarpanlarına ayrıldığıında bu sayının kodu 302 dir.

54. Buna göre, hangi sayı için oluşturulan kod 3121 dir?

- A) 1000 B) 1200 C) 1600
D) 1800 E) 4200

55. A ve B sayılarının asal çarpanları ayrı olmak koşulu ile bu sayıların kodları sırasıyla 2x3 ve 1x2 dir.

Buna göre, $\frac{A}{B}$ oranı en az kaçtır?

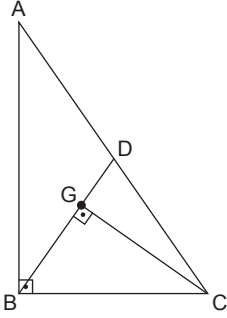
- A) 2 B) 3 C) 6 D) 10 E) 30

56. M ve N sayıları için oluşturulan kodlar sırasıyla 213 ve 1024'tür.

Buna göre, M . N çarpımı için oluşturulan kod aşağıdakilerden hangisidir?

- A) 2154 B) 3054 C) 3154
D) 3254 E) 3257

57.



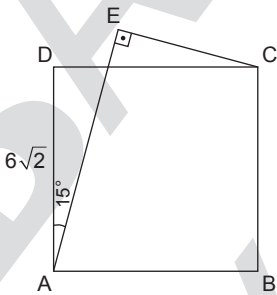
ABC dik üçgen

G ağırlık merkezi

 $|AB| \perp |BC|$ $|BD| \perp |GC|$ $|GC| = 12$ cmolduğuna göre, $|GB|$ kaç cm'dir?

- A) $6\sqrt{3}$ B) $6\sqrt{2}$ C) $4\sqrt{3}$
 D) $4\sqrt{2}$ E) $\sqrt{2}$

58.

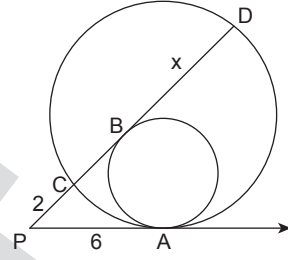


ABCD kare

 $m(\widehat{DAF}) = 15^\circ$ $|AD| = 6\sqrt{2}$ cmolduğuna göre, $|AE|$ kaç cm'dir?

- A) $6\sqrt{5}$ B) $6\sqrt{3}$ C) $5\sqrt{3}$
 D) $6\sqrt{2}$ E) 8

59.



Şekildeki iç teğet iki çember verilmiştir.

 $|PA| = 6$ cm $|PC| = 2$ cmolduğuna göre, $|BD| = x$ kaç cm'dir?

- A) 8 B) 10 C) 12 D) 14 E) 16

60. Denklemi $\frac{x}{4} + \frac{y}{a} = 1$ olan doğrunun koordinat eksenleriyle sınırlı bölgenin x eksenine etrafında 360° döndürülmesiyle elde edilen cismin hacmi 12π birim küptür.

Buna göre, a'nın değeri kaçtır?

- A) -2 B) -1 C) 0 D) 2 E) 3

GENEL YETENEK TESTİ BİTTİ.
 GENEL KÜLTÜR TESTİNE GEÇİNİZ.

GENEL KÜLTÜR

1. Orta Asya Türk Devletlerinde ülkenin boylardan oluşması, ikili teşkilat yapısının uygulanmasının aşağıdakilerden hangisine neden olduğu savunulabilir?

- A) Tarımda ilerleme sağlaması
- B) Düzenli ordunun kurulmasına
- C) Avrupa'da fetih faaliyetlerine başlamalarına
- D) Merkezîyetçi yapının zayıflamasına
- E) Din değiştirmelerin yapılmasına

2. Anadolu Selçuklu Devleti'nde tasavvufun yayılmasında aşağıdakilerden hangisinin etkisinden söz edilemez?

- A) Bektaşilik
- B) Bayramilik
- C) Ekberilik
- D) Mevlevilik
- E) Atalar kültür inancı

3. Aşağıda verilen bilgilerden hangisi eyalet askerleri için yanlıştır?

- A) Türk ve Müslüman olmaları
- B) Buldukları bölgelerin güvenliğini sağlamaları
- C) Kara ordusunun büyük bir bölümünü oluşturmaları
- D) Giderlerin dirlik sahipleri tarafından karşılanması
- E) Yeniçeri ağasının komutası altında hareket etmeleri

4. Osmanlı Devleti'nin merkez ordusu olan Kapıkulu teşkilatında,

- I. Cebeciler,
- II. Humbaracılar,
- III. Akıncılar

birimlerinden hangileri bulunurdu?

- A) Yalnız I
- B) Yalnız II
- C) Yalnız III
- D) I ve II
- E) I, II ve III

5. Bir yerin fethinden sonra gayrimüslimlere mülk olarak verilen ve bu toprak sahiplerinden gelir vergisi olarak alınan vergi aşağıdakilerden hangisidir?

- A) Haraç
- B) Cizye
- C) Ağnam
- D) Öşür
- E) Avarız

6. Osmanlı Devleti'nde 17. yy.da çıkan ayaklanmaların nedenleri arasında aşağıdakilerden hangisi yer almaz?

- A) Yeniçeri ulufelerinin ayarı düşük parayla ödemesi
- B) Liyakatsiz yöneticilerin önemli görevlere atanması
- C) İstenilen ağır vergiler altında halkın ezilmesi
- D) Şehzadeler arasındaki taht kavgaları
- E) Ekonomik bozulma sebebiyle halkın ezilmesi

7. Avrupa devletlerinin Osmanlı ülkesinin çeşitli bölgelerinde okul, hastane gibi kurumlar açmasındaki temel amaçları aşağıdakilerden hangisidir?

- A) Hastalıkları önlemek
- B) Halkın kültür düzeyini yükseltmek
- C) Teknolojiyi Osmanlı ülkesine getirmek
- D) Azınlıkların ulusal bilinçlerini azaltmak
- E) Osmanlı iç politikasında etkili hale gelmek

8. Doğu Trakya ve Batı Anadolu'nun işgalinin Yunanlılara bırakılması aşağıdakilerden hangisinde kararlaştırılmıştır?

- A) Mondros Mütarekesi
- B) Paris Konferansı
- C) Sevr Antlaşması
- D) Mudanya Ateşkes Antlaşması
- E) Bristol Raporu

9. Mustafa Kemal I. Dünya Savaşı'nda,

- I. Conkbayırı,
- II. Suriye,
- III. Irak

bölgelerinden hangisinde mücadele etmiştir?

- A) Yalnız I
- B) Yalnız II
- C) Yalnız III
- D) I ve II
- E) I, II ve III

10. Kurtuluş Savaşı devam ederken değişik yer ve zamanlarda alınmış olan aşağıdaki kararlardan hangisi yeni bir devlet kurmaya doğru gidildiğini en açık biçimde ortaya koymaktadır?

- A) Ulusun geleceğini, ulusun kendi iradesi belirleyecektir.
- B) Müdafaa-i Hukuk Cemiyetleri tek cemiyet altında birleştirilecektir.
- C) Hıristiyan unsurlara siyasi egemenliğimizi ve sosyal dengemizi bozucu ayrıcalıklar verilmeyecektir.
- D) Misak-ı Milli Belgesi hazırlanarak meclise kabul ettirilecektir.
- E) Anadolu ve Rumeli Müdafaa-i Hukuk Cemiyetinin varlığı İstanbul hükümetine tanıtılacaktır.

11. Aşağıdakilerden hangisi Erzurum Kongresinde alınan kararlardan biri değildir?

- A) Doğu Anadolu illerindeki direniş hareketlerinin yönlendirilmesi
- B) Milli güçler yerine ulusal ordu kurulması
- C) Mandacılığın reddedilmesi
- D) Vatanın bölünmez bir bütün olduğu
- E) Azınlıklara siyasi ve sosyal dengeyi bozacak ayrıcalıkların verilmesine karşı çıkılması

12. Atatürk döneminde,

- I. Medeni Kanun,
- II. Tevhid-i Tedrisat Kanunu,
- III. Soyadı Kanunu

yapılan inkılaplardan hangileri laiklik ilkesi ile doğrudan ilişkilidir?

- A) Yalnız I
- B) Yalnız II
- C) Yalnız III
- D) I ve II
- E) I, II ve III

13. I. Soyadı Kanunu

- II. Saltanat'ın kaldırılması
- III. Kapitülasyonların kaldırılması

Yukarıdaki gelişmeler bağımsızlık, eşitlik, milli egemenlik ilkelerinin hangisiyle ilişkilidir?

	Bağımsızlık	Eşitlik	Milli Egemenlik
A)	II	I	III
B)	III	I	II
C)	III	II	I
D)	I	II	III
E)	II	III	I

14. Cumhuriyet döneminde yapılan bazı inkılaplar şunlardır:

- I. Saltanatın kaldırılması,
- II. Kılık kıyafet kanununun kabul edilmesi,
- III. Aşar vergisinin kaldırılması

Yukarıdakilerden hangileri siyasi alanda yapılan inkılaplar arasında yer alır?

- A) Yalnız I
- B) Yalnız II
- C) I ve II
- D) II ve III
- E) I ve III

15. I. Osmanlı borçlarının ayrılan devletler arasında pay edilmesi

- II. Karaağaç ve çevresinin savaş tazminatı olarak alınması
- III. Yabancı okulların Türkiye'nin denetimine bırakılması

Lozan Konferansı'nda alınan bu kararlardan hangileri doğrudan Türkiye'nin iç işlerine karşılmasını önlemeye yöneliktir?

- A) Yalnız I
- B) Yalnız III
- C) I ve II
- D) II ve III
- E) I, II ve III

16. Lozan'da Musul meselesi çözülememiş ve Milletler Cemiyeti'ne götürülmüştür. Milletler Cemiyeti'nde Türkiye destek bulamadığı için Musul meselesi aleyhimize çözümlenmiştir.

Buna göre, yabancı devletlerin Türkiye'nin hangi kararlarına karşı bir politika takip ettikleri söylenebilir?

- A) Takrir-i Sükun Kanunu
- B) 1924 Anayasası
- C) Tekalifi Milliye
- D) Misak-ı Milli
- E) Teşkilat-ı Esasi

17. Atatürk Döneminde aşağıdakilerden hangisi diğerlerine göre fazla bir sorun yaratmamıştır?

- A) Azınlıklar sorunu
- B) Nüfus mübadelesi
- C) Musul Meselesi
- D) Milletler Cemiyetine katılma
- E) Hatay sorunu

18. "Milli sınırlar içinde vatan bir bütündür parçalanamaz" Erzurum'da alınan bu karar kongre ile ilgili aşağıdakilerden hangisini gösterir?

- A) Saltanata karşı çıkıldığını
- B) Alınan kararların bütün vatani ilgilendirdiğini
- C) Mustafa Kemal'in lider olduğunu
- D) Hilafetin kurtarılmasının amaçlandığını
- E) Doğu illerinin savunulacağını

19. Cumhuriyet döneminde çok partili sisteme geçişi engelleyen;

- I. Menemen Olayı,
- II. Şeyh Said İsyanı,
- III. Çerkez Ethem İsyanı

gelişmeler arasında hangileri vardır?

- A) Yalnız I
- B) Yalnız II
- C) I, II ve III
- D) II ve III
- E) I ve II

20. Aşağıdakilerden hangisi Atatürk Dönemi'nde kurulan partilerden biri değildir?

- A) Serbest Cumhuriyet Partisi
- B) Ahali Cumhuriyet Partisi
- C) Demokrat Parti
- D) Terakkiperver Cumhuriyet Partisi
- E) Türkiye Cumhuriyeti Amele ve Çiftçi Partisi

21. Atatürk döneminde,

- I. İş Bankası,
- II. Ziraat Bankası,
- III. Sümerbank

bankalarından hangileri açılmıştır?

- A) Yalnız I
- B) Yalnız II
- C) Yalnız III
- D) I ve III
- E) I, II ve III

22. Aşağıdakilerden hangisi Türkiye'nin II. Dünya Savaşı öncesi güvenliğini sağlamak amacı ile aldığı önlemlerden biri olarak gösterilemez?

- A) Milletler Cemiyeti'ne üye olması
- B) Balkan Antantı'nın imzalanması
- C) Sadabat Paktı'nın imzalanması
- D) Montrö Boğazlar Sözleşmesi'nin imzalanması
- E) Londra Konferansı'nın toplanması

23. Türkiye'nin aşağıda verilen hangi sorunu en son çözüme kavuşmuştur?

- A) Boğazlar
- B) Doğu sınırı
- C) Hatay
- D) Nüfus Mübadelesi
- E) Yabancı okullar

24. Aşağıdakilerden hangisi eğitim ve öğretim alanındaki inkılaplarla ilgili değildir?

- A) Latin harflerinin kabulü
- B) Millet mekteplerinin açılması
- C) Medeni Kanun'un kabul edilmesi
- D) Medreselerin kapatılması
- E) Tevhidi Tedrisat Kanununun çıkarılması

25. Balkan Antantı'nın oluşmasında,

- I. bölge barışının korunması,
- II. güç birliği oluşturmak istenmesi,
- III. Türkiye'nin Batı sınırının güvence altına alınması

amaçlarından hangilerine ulaşılmak istendiği söylenbilir?

- A) Yalnız I
- B) Yalnız II
- C) Yalnız III
- D) I ve III
- E) I, II ve III

26. Aşağıdakilerden hangisi Demokrat Parti'nin kurucuları arasında yer almaz?

- A) Celal Bayar
- B) Fatin Rüştü Zorlu
- C) Adnan Menderes
- D) Fuat Köprülü
- E) Refik Koraltan

27. II. Dünya Savaşı'ndan sonra Türkiye'nin sınırları dışında asker gönderdiği ilk savaş aşağıdakilerden hangisidir?

- A) Kore Savaşı
- B) Körfez Savaşı
- C) İran-İrak Savaşı
- D) Vietnam Savaşı
- E) Yem Kippur Savaşı

28.



Türkiye’de yaz saati uygulamasına geçildiğinde ulusal saat 12.00’yi gösterdiği anda, bir cismin gölge boyunun en kısa olduğu ilimiz aşağıdakilerden hangisidir?

- A) Çanakkale B) İzmit
C) Ankara D) Samsun
E) Iğdır

29. Doğu Anadolu Bölgesi’nde aritmetik nüfus yoğunluğu az olduğu halde, tarımsal nüfus yoğunluğu fazladır.

Bu durumun nedeni hangi seçenekte doğru verilmiştir?

- A) Tarımsal uğraşların az olması
B) Tarım alanlarının dar olması
C) Bölgenin geniş olması
D) Tarımsal üretimde verimin yüksek olması
E) Göçlerin fazla olması

30. Karadeniz Bölgesi’nde kıydan itibaren bir duvar gibi yükselen dağlar, kıyı şeridi ile iç kesimler arasında iklimin farklılaşmasına neden olur.

Aşağıda verilen kentlerden hangi ikisinin arasında iklim farklılığı daha azdır?

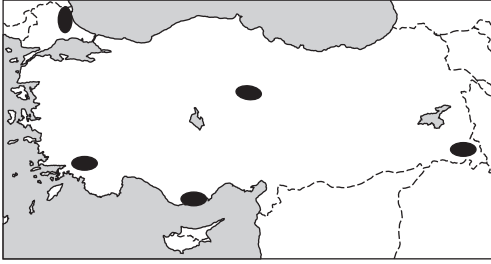
- A) Rize - Bayburt
B) Trabzon - Gümüşhane
C) Samsun - Amasya
D) Sinop - Çorum
E) Zonguldak - Bolu

31. Türkiye’nin kırsal kesimlerindeki yerleşme tipleri incelendiğinde, İç Anadolu ve Güneydoğu Anadolu’da toplu kır yerleşmeleri, Karadeniz’de ise dağınık kır yerleşmelerinin daha yaygın olduğu görülür.

Bölgeler arasındaki bu farklılığı oluşturan temel etken aşağıdakilerden hangisidir?

- A) Nüfus yoğunluğu
B) Yer şekilleri ve su kaynakları
C) Ürün çeşitliliği
D) Endüstrileşme düzeyleri
E) Ulaşım koşulları

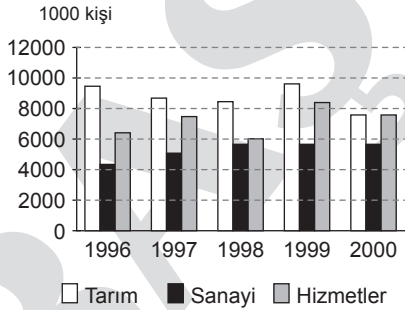
32. Aşağıda nüfus yoğunluğunun az olduğu bazı alanlar gösterilmiştir.



Bu alanlarda nüfus yoğunluğunun az olmasında aşağıdakilerden hangisinin etkisi en azdır?

- A) Sanayi tesislerinin yetersiz olmasının
- B) Yağış miktarının az olmasının
- C) Tarım alanlarının dar olmasının
- D) Yer şekillerinin engebeli olmasının
- E) Ulaşım imkânlarının yetersiz olmasının

33. Aşağıdaki grafikte Türkiye'de 1996 ve 2000 yılları arasında 12 ve daha yukarı yaşlarda tarım, sanayi ve hizmet sektöründe çalışan nüfusun miktarı verilmiştir.



Bu grafiğe göre aşağıdaki yargılardan hangisine ulaşılabilir?

- A) Verilen yıllarda hizmet sektöründe çalışan nüfus miktarı sürekli azalmıştır.
- B) Verilen yıllarda tarım sektöründe çalışan nüfus miktarında oluşan dalgalanma diğer sektörler göre daha azdır.
- C) Her bir yılda sanayi sektöründe çalışanların sayısı diğerlerine göre daha fazladır.
- D) Verilen bütün yıllarda tarım ile hizmet sektörleri arasındaki fark sabittir.
- E) 1996 yılında hizmet sektöründe çalışan nüfus miktarı, 2000 yılına göre daha azdır.

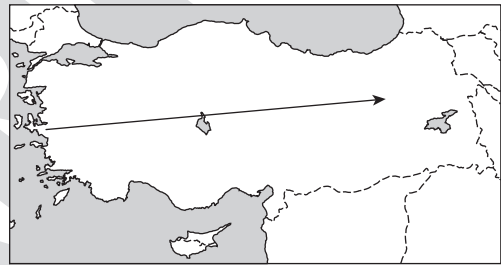
34. Aşağıdaki tabloda Türkiye'deki bazı ovaların ortalama yükselteleri verilmiştir.

Ova	Ortalama Yükselti
Akhisar	100
Kütahya	930
Erzincan	1200
Erzurum	1900

Bu bilgiler Türkiye'nin yeryüzü şekilleri ile ilgili aşağıdakilerden hangisine kanıt olarak gösterilebilir?

- A) Ovaların genellikle akarsuların denize döküldüğü bölgelerde bulunduğu
- B) Yükseltinin batıdan doğuya doğru gidildikçe arttığına
- C) Ovaların, kırıklı dağ sıralarıyla paralellik gösterdiğine
- D) Ovaların, platolardan daha çok yer kapladığına
- E) Yer şekillerinin doğu-batı doğrultusunda uzandığına

35.



- I. Yağış miktarı artar.
- II. Sıcaklık değerleri düşer.
- III. Tarım ürünlerinin olgunlaşma süresi kısalmır
- IV. Yükselti artar.
- V. Sıcaklık farkı artar.

Yukarıdaki Türkiye haritasında gösterilen ok doğrultusunda gidildiğinde, bu durumlardan hangilerinin gerçekleşmesi beklenmez?

- A) I ve II
- B) I ve III
- C) II ve III
- D) IV ve V
- E) II ve V

36. I. Bitki örtüsünün gür olması
 II. Dağların kıyıya paralel uzanması
 III. Her mevsim yağış alması
 IV. Havanın taşıyabildiği nem miktarının azalması
 V. Kıta sahanlığının dar olması

Karadeniz kıyılarında yamaç boyunca yükselen havanın yağış bırakması, yukarıdakilerden hangilerinin sonucudur?

- A) Yalnız I B) Yalnız II C) II ve IV
 D) II ve V E) III ve IV

37.



Yukarıdaki haritada verilen yörelerin iklim koşulları göz önüne alındığında, hangisinde yıkanma yetersizliğine bağlı topraktaki kireç ve tuz oranının daha yüksek olması beklenir?

- A) I B) II C) III D) IV E) V

38.

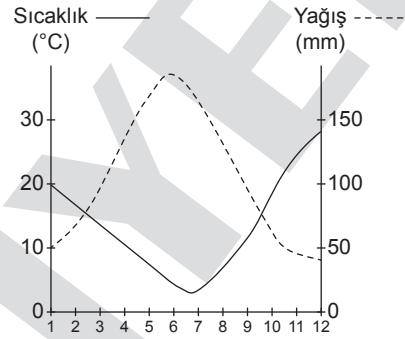


Tarım ürünlerinin üretiminde ve üretim alanlarının dağılışında iklimin etkisi belirgindir.

Yukarıdaki haritada belirtilen yerlerden hangisinde yağış rejimine bağlı olarak buğday üretimi yapılamaz?

- A) I B) II C) III D) IV E) V

39.



Yukarıda sıcaklık ve yağış koşulları verilen kent aşağıdaki ürünlerden hangisinin yetişmesine uygun değildir?

- A) Tütün B) Çay C) Zeytin
 D) Buğday E) Pamuk

40. Yurdumuz farklı iklim tiplerine ve dolayısıyla çok zengin bir bitki örtüsüne sahiptir. Bu nedenle arı yetiştiriciliğine ve bal üretimine uygun bir ülkedir.

Aşağıdaki bölgelerden hangisinde arıcılık faaliyeti diğerlerine göre daha az gelişmiştir?

- A) Karadeniz B) Güneydoğu Anadolu
 C) Ege D) Doğu Anadolu
 E) İç Anadolu

41. I. Ambarlı - Doğalgaz

II. Çatalağzı - Linyit

III. Soma - Linyit

IV. Atatürk - Su gücü

V. Sarayköy - Jeotermal

Yukarıdaki santrallerin hangisinde kullanılan enerji kaynağı yanlış eşleştirilmiştir?

A) I B) II C) III D) IV E) V

42. Endüstri kuruluşlarının yerinin belirlenmesinde etkili olan faktörlerden biri de hammaddeye yakınlıktır.

Buna göre, Erzurum-Kars Bölümü'nde kurulacak aşağıdaki sanayi tesislerinin hangisinde hammaddeye yakınlığın daha etkili olduğu söylenebilir?

A) Deri

B) Konserve

C) Dokuma

D) Unlu mamüller

E) Yünlü dokuma

43. Türkiye'nin en büyük gölü olan Van Gölü Doğu Anadolu Bölgesi'ndedir.

Aşağıdakilerden hangisi bu göl için söylenemez?

A) Suları sodalıdır.

B) Volkanik Set gölüdür.

C) Açık havza özelliği gösterir.

D) Üzerinde ulaşım yapılır.

E) Canlı yaşamına uygun değildir.

44. Türkiye'nin birçok yöresinde tektonik hareketliliğe bağlı olarak fay kaynakları görülür. Mineralce zengin bu kaynaklar kaplıca, ılıca, içmece gibi isimlerle anılırlar.



Yukarıdaki açıklama göz önüne alınırsa; haritada belirtilen yerlerden hangisinde fay kaynaklarının daha yaygın olması beklenir?

A) I B) II C) III D) IV E) V

45. Türkiye'de karstik kökenli ovalar, Batı ve Orta Toroslar üzerinde yer alır. Bu tür ovalar diğer ovalara göre daha küçüktür.

Aşağıdaki ovalardan hangisi karstik kökenli değildir?

A) Elmalı

B) Korkuteli

C) Çarşamba

D) Kestel

E) Teffeni

46. 1982 Anayasası'na göre, aşağıdakilerden hangisi göreviyle ilgili suçlardan dolayı yüce Divan'da yargılanacaklar arasında yer almaz?

- A) TBMM Başkanı
- B) Genelkurmay Başkanı
- C) Yargıtay Cumhuriyet Başsavcısı
- D) Jandarma Genel Komutanı
- E) Bakan Yardımcısı

47. 1982 Anayasası'na göre, Türkiye Büyük Millet Meclisi için aşağıdakilerden hangisi söylenemez?

- A) Türkiye Büyük Millet Meclisi genel oyla seçilen beş yüz elli milletvekilinden oluşur.
- B) Türkiye Büyük Millet Meclisi'nin seçimleri beş yılda bir yapılır.
- C) Türkiye Büyük Millet Meclisi, her yıl Ekim ayının ilk günü kendiliğinden toplanır.
- D) Türkiye Büyük Millet Meclisi bir yasama yılında en çok üç ay tatil yapabilir.
- E) Siyasi parti grupları en az yirmi üyeden meydana gelir.

48. 1982 Anayasası'na göre, aşağıdaki görevlerden hangisine seçilmek veya atanmak milletvekilliğinin düşmesi nedenleri arasında yer alır?

- A) TBMM Başkanlığı
- B) Başbakanlık
- C) Bakanlık
- D) Cumhurbaşkanlığı
- E) TBMM Soruşturma Komisyonu üyeliği

49. Aşağıdakilerden hangisi 1982 Anayasası'nda yer verilen kurumlardan değildir?

- A) Kamu Görevlileri Etik Kurulu
- B) Kamu Denetçiliği Kurumu
- C) Kamu Görevlileri Hakem Kurulu
- D) Ekonomik ve Sosyal Konsey
- E) Devlet Denetleme Kurulu

50. Aşağıdakilerden hangisi merkezi idarenin taşra teşkilatı içinde yer alır?

- A) İl özel idaresi
- B) Bucak
- C) Belediye
- D) Köy
- E) Büyükşehir belediyesi

51. Aşağıdakilerden hangisi Devlet Memurları Kanunu'nda yer alan istihdam biçimlerinden **değildir**?

- A) Teknik personel
- B) Memur
- C) Sözleşmeli personel
- D) İşçi
- E) Geçici personel

52. Bir ülkede uygulanan hukuk kurallarının tümüne birden ne ad verilir?

- A) Pozitif hukuk
- B) Tabii hukuk
- C) Mevzu hukuk
- D) Tarihi hukuk
- E) Örf ve adet hukuku

53. Bilinen bir hukuki durumdan bilinmeyen bir durumun varlığı sonucuna ulaşmaya hukukta verilen ad aşağıdakilerden hangisidir?

- A) Karine
- B) Yorum
- C) İspat yükü
- D) Aksi ile kanıt
- E) Kıyas

54. Türk Medeni Kanununun 15. maddesinde yer alan "Kanunda gösterilen ayırık durumlar saklı kalmak üzere, ayırt etme gücü bulunmayan kimsenin fiilleri hukuki sonuç doğurmaz." hükmü ne tür bir hukuk kuralıdır?

- A) Emredici hukuk kuralı
- B) Tamamlayıcı hukuk kuralı
- C) Yedek hukuk kuralı
- D) Yorumlayıcı hukuk kuralı
- E) Tanımlayıcı hukuk kuralı

55. 2014 Dünya Kupası futbol organizasyonu hangi ülkede gerçekleştirilecek?

- A) Türkiye
- B) Japonya
- C) İngiltere
- D) Brezilya
- E) Almanya

56. Kudüs'te açılan, Filistin ve İsraili iş adamları arasında yaşanan anlaşmazlıkları çözmeyi hedefleyen "Kudüs Uluslararası Tahkim Merkezi'nin" başkanı aşağıdakilerden hangisi olmuştur?

- A) Cemil Çiçek
- B) Abdullah Gül
- C) Rifat Hisarcıklıoğlu
- D) Muharrem Güler
- E) Kemal Unakıtan

57. Aşağıda verilenlerden hangisi 193 ülkeyle dünyanın en çok üyesi olan örgütlenme vasfı taşıyan Birleşmiş Milletlerin görevleri arasında yer almaz?

- A) Ekonomisi zayıf ülkelerin vatandaşlarına maddi yardım sağlamak
- B) Ekonomik sosyal kültürel iş birliğini sağlamak
- C) Devletlerarası iyi ilişkileri pekiştirmek
- D) Sorunların çözümünde temel hak ve özgürlüklerin geliştirilmesine ön ayak olmak
- E) Uluslararası barış ve güvenliği sağlamak

58. I. Ürdün
II. Türkiye
III. Malezya

Yukarıda verilenlerden hangisi veya hangileri D-8 (Gelişmekte Olan) ülkesi değildir?

- A) Yalnız I
- B) II ve III
- C) I ve III
- D) I, II ve III
- E) Yalnız III

59. Türkiye'nin Suriye'ye karşı güvenliğini sağlamak için NATO'da talep ettiği, bunun üzerine Almanya, Hollanda, ABD'den yollanan patriot füzeleri verilen illerden hangisinde konuşlandırılmıştır?

- A) Bursa-Kütahya-Eskişehir
- B) Ankara-Konya-Samsun
- C) Bolu-Erzincan-Diyarbakır
- D) Sinop-Trabzon-Ordu
- E) Kahramanmaraş-Adana-Gaziantep

60. Aşağıda verilenlerden hangisi WHO (Dünya Sağlık Örgütü'nün) görevlerinden değildir?

- A) Anne ve çocuk sağlığı lehindeki çalışmalarını desteklemek
- B) Epidemik ve andemik hastalıkların ortadan kaldırılması yolundaki çalışmalarını teşvik etmek
- C) Sağlık hizmetlerinin geliştirilmesinde katkıda bulunan meslek grupları arasında işbirliğini sağlamak
- D) Sağlık alanında her türlü bilgi sağlamak tavsiyelerde bulunmak
- E) Hastanelerdeki acil servislere personel yetiştirmek

**TEST BİTTİ.
CEVAPLARINIZI KONTROL EDİNİZ.**